

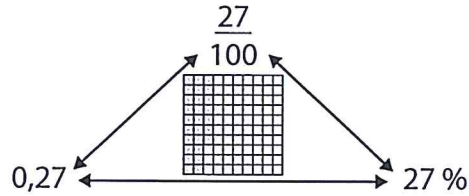
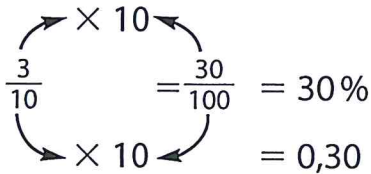
Les fractions, les nombres décimaux et les pourcentages



Révision éclair

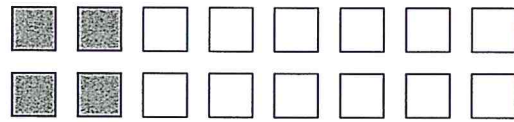
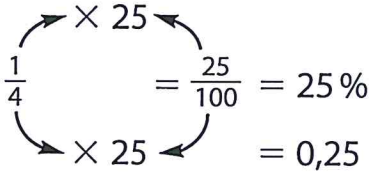
Les fractions, les nombres décimaux et les pourcentages sont 3 façons de décrire les parties d'un tout.

➤ $\frac{3}{10}$ de cette figure est colorée.



30% de la figure est colorée.

➤ $\frac{1}{4}$ des carrés sont colorés.



25% des carrés sont colorés.

Exerce-toi

1. Écris chaque fraction sous la forme d'un pourcentage et d'un nombre décimal.

a) $\frac{9}{100}$ _____

b) $\frac{7}{10}$ _____

c) $\frac{4}{25}$ _____

d) $\frac{1}{5}$ _____

e) $\frac{7}{50}$ _____

f) $\frac{11}{20}$ _____

2. Quel pourcentage est coloré?

